

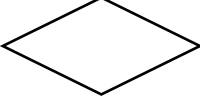
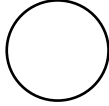
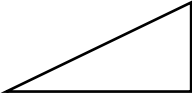


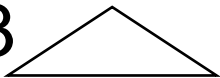


KARTA PRACY „ZACZAROWANE KWIATY” /dzieci starsze/

Ułóż z figur zaklęty kwiatek, używając tyle takich figur ile wskazuje cyfra.

/ figury można wyciąć z papieru, wg załączonego wzoru lub samodzielnie/. W okienku poniżej ułóż działanie matematyczne.

|   |  |
|---|--|
|   |  |
| 1  3  | 4  1  |
| $1+3=....$  | $4+...=...$  |
|   |  |
| 6  1  | 5  3  |
| $6+...=...$   | $5+...=...$  |

Ułóż kompozycje z dowolnych figur, policz ile figur użyłeś. Spróbuj ułożyć zapis dodawania.